


Géométrie


Tracer un triangle rectangle

(leçon réalisée par les élèves de CE1 et CE2)

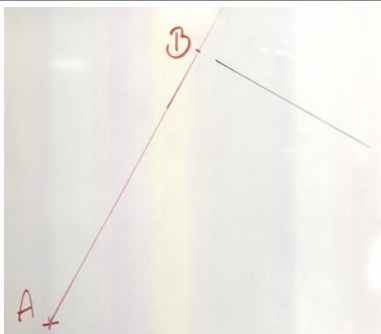
Triangle ABC rectangle en B avec $AB=5\text{cm}$ et $BC=4\text{cm}$



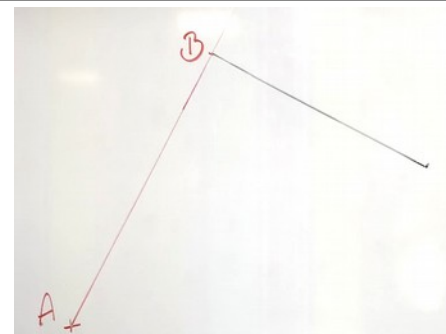
Étape 1 : « Je place mon point A et je trace une droite avec ma règle ».



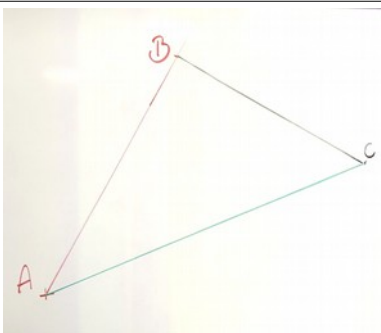
Étape 2 : « Je place le 0 de ma règle sur le A et je mesure 5cm pour placer mon point B ».



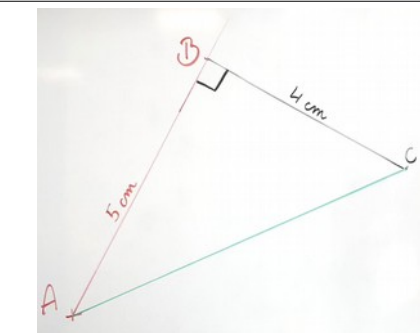
Étape 3 : « Avec mon équerre je vais faire mon angle droit. Je place un coté de l'angle de l'équerre sur [AB] et je trace une partie de l'autre côté ».



Étape 4 : « Je prends ma règle et je place le 0 sur le B. Je trace un trait de 4cm et je place mon point C ».



Étape 5 : « Je relie C à A avec ma règle ».



Étape 6 : « Je vérifie avec mon équerre l'angle droit et j'écris les longueurs sur les côtés ».