

Complète la table de Pythagore :

## La table de Pythagore de multiplication

X	0	1	2	3	4	5	6	7	8	9	10
0											
1											
2											
3											
4											
5											
6											
7											
8											
9										81	
10											

<http://lutinbazar.eklablog.com>


Relie chaque objet aux pièces nécessaires pour l'acheter.



boîte de haricots verts  
55 centimes

•


•



bouteille d'eau  
75 centimes

•

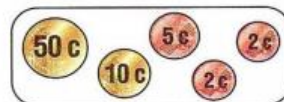
•



bouteille de lait  
87 centimes

•

•



boîte de thon  
69 centimes

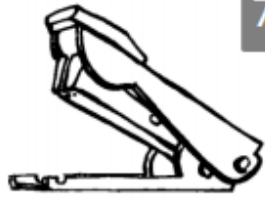
•

•



Calcule la monnaie rendue.

L'objet coute :



7 € 50 c


Mila donne :



La marchande  
lui rend :



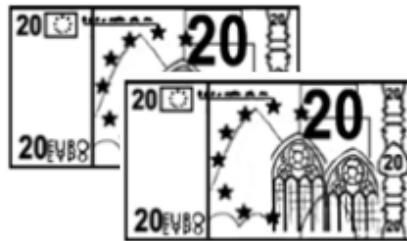
27 € 60 c



15 € 40 c



34 € 90 c



45 € 20 c

