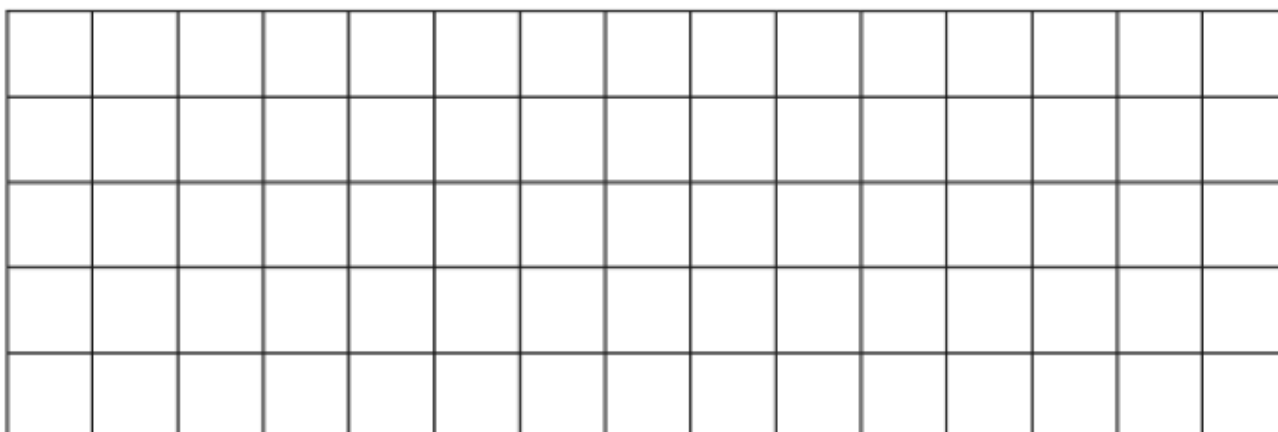
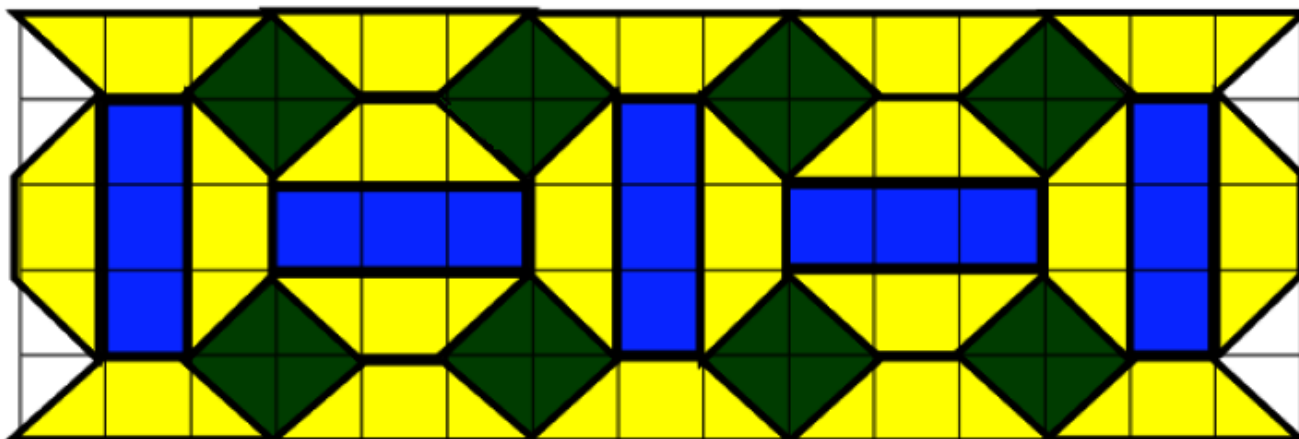


Reproduis ce dallage :



Complète avec : ***le double de ou la moitié de***

100 est .....50

30 est .....15

20 est .....10

16 est .....8

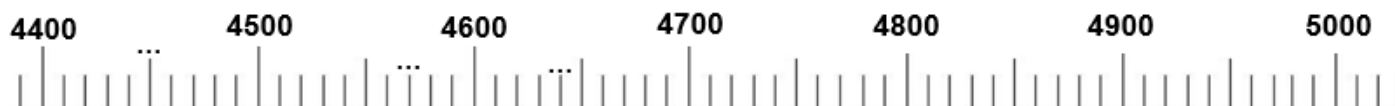
Calcule : Rappel  $x20 = x2 \times 10$

$300 \times 20 = \dots$

$250 \times 20 = \dots$

$800 \times 20 = \dots$

Complète la droite graduée :



Place les nombres suivants sur la droite graduée : 4 750 ; 4 920 ; 5 030

Utilise la droite graduée pour trouver le résultat de l'opération suivante :  $4\ 550 + \dots = 5\ 000$

puis pour chercher :  $4\ 750 + \dots = 5\ 000$  et  $4\ 640 + \dots = 5\ 000$

Quel est le nombre représenté ?

