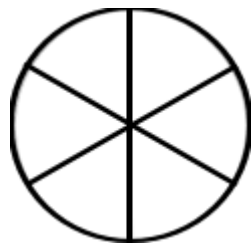
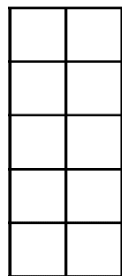
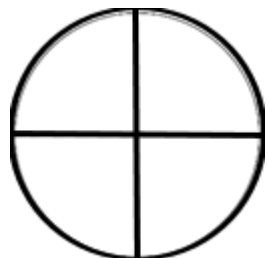


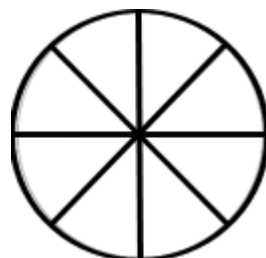
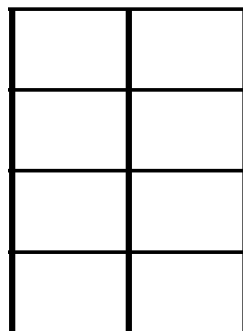
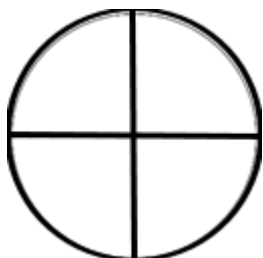
Exercice :

Colorie pour obtenir la fraction $\frac{1}{2}$



Exercice :

Colorie pour obtenir la fraction $\frac{1}{4}$




Exercice :


Colorie pour obtenir

- en rouge la fraction $\frac{1}{100}$

- en vert la fraction $\frac{1}{10}$


- en bleu la fraction $\frac{30}{100}$






La carte « 8 » représente l'unité.

Quelle fraction de cette unité est représentée par la partie entourée ?



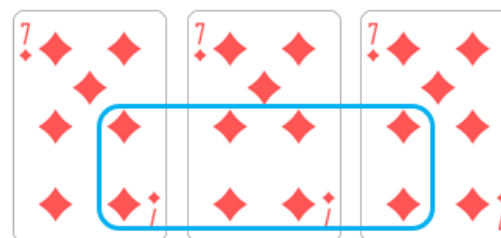
La carte « 9 » représente l'unité.

Entoure le 1/3 de trèfles !



La carte « 4 » représente l'unité.

Quelle fraction de cette unité est représentée par la partie entourée ?



La carte « 7 » représente l'unité

La partie entourée est-elle :
inférieure
ou
supérieure à 1 ?