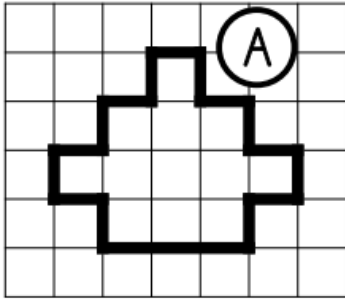


Exercices maths séquence 6 - Fiche 1

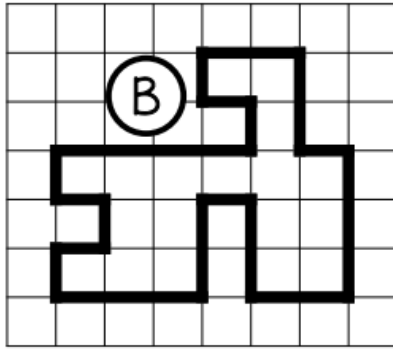
Exprime l'aire de ces figures :

Leçon GM 10

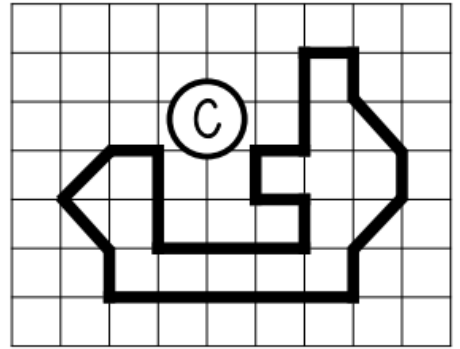
□ *unité*



A = unités d'aire



B = unités d'aire



C = unités d'aire

Sur ton cahier, dessine 3 figures **différentes** qui ont une aire de 12 unités A.

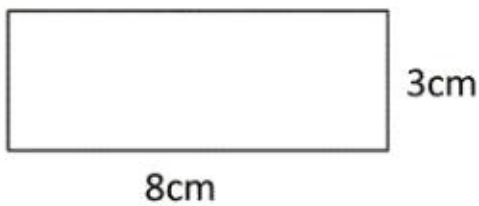
□ *unité A*

Sur ton cahier, dessine 3 figures **différentes** qui ont une aire de 28 unités B.

▽ *unité B*

Indique l'aire de ces figures en laissant apparaître tes calculs :

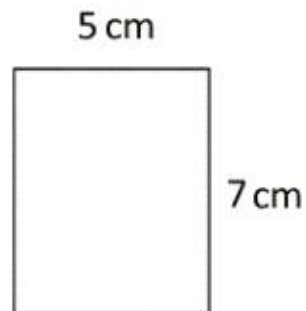
1)



Calculs :

Aire : cm².

2)



Calculs :

Aire : cm².