

Exercices maths séquence 5 - Fiche 2

- Pour faire un cake, Nicolas utilise 250 g de farine, 1 hg 25 de beurre, autant de sucre que de beurre, 1 dag de levure et 3 œufs pesant chacun 60 g.

Combien de grammes pèse la pâte ?

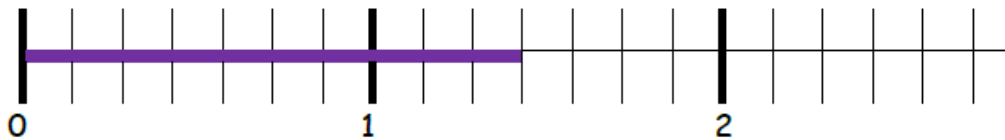
Il ajoute 120 dg de fruits confits. Combien de grammes pèse alors la pâte ?

Tableau de conversion à reproduire sur le cahier

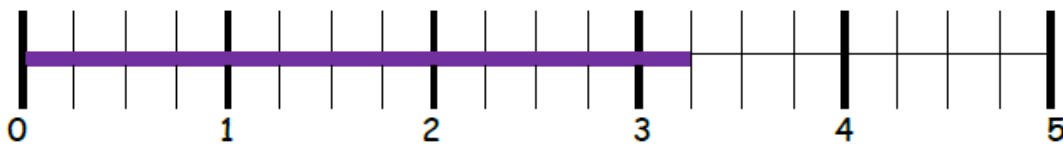
kg	hg	dag	g	dg	cg	mg

Trouve la fraction représentée par chaque droite et encadre-la entre deux nombres entiers consécutifs.

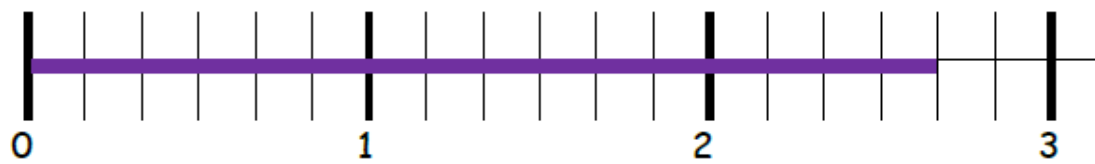
Ex :



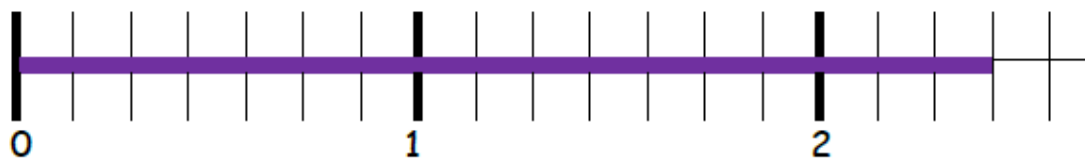
$$1 < \frac{10}{7} < 2$$



..... < <



..... < <



..... < <