

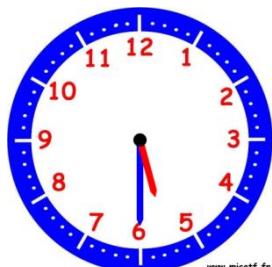
Objectif : Je sais lire les heures justes, les demi-heures et les quarts d'heure.

1. Écris les heures indiquées sur ces horloges.



www.micetf.fr

Il est ..... h ..... min.



www.micetf.fr

Il est ..... h ..... min.



www.micetf.fr

Il est ..... h ..... min.



www.micetf.fr

Il est ..... h ..... min.



www.micetf.fr

Il est .....



www.micetf.fr

Il est .....



www.micetf.fr

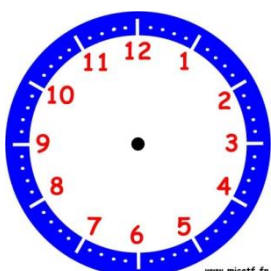
Il est .....



www.micetf.fr

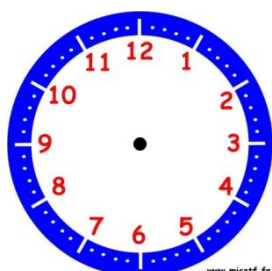
Il est .....

2. Place les aiguilles selon les heures indiquées.



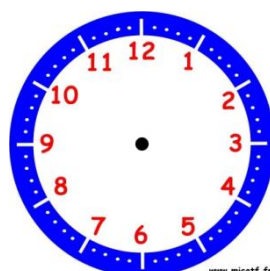
www.micetf.fr

Il est 10 h 00 min.



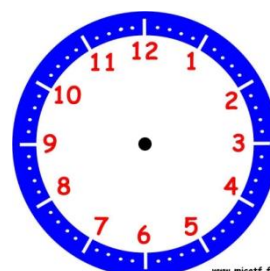
www.micetf.fr

Il est 3 h 30 min.



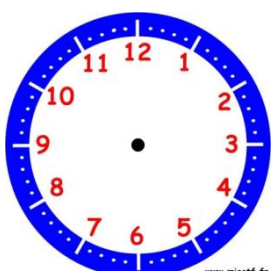
www.micetf.fr

Il est 1 h 00 min.



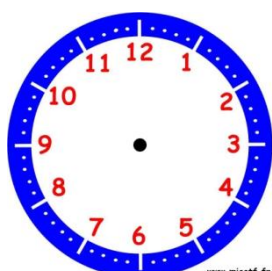
www.micetf.fr

Il est 4 h 15 min.



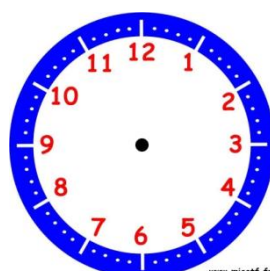
www.micetf.fr

Il est 12 h et demie.



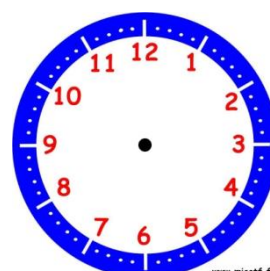
www.micetf.fr

Il est 6 h et quart.



www.micetf.fr

Il est 11 h et quart.



www.micetf.fr

Il est 9 h 30 min.