



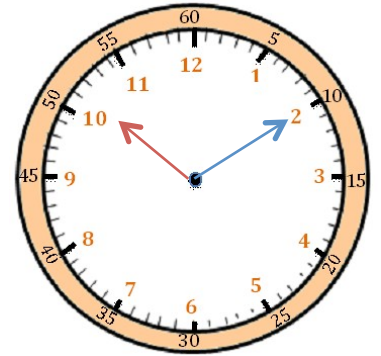
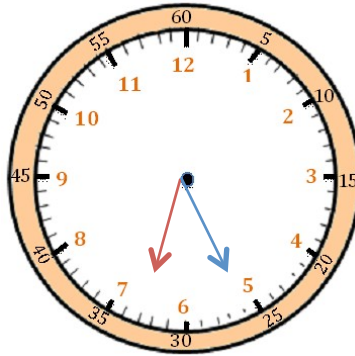
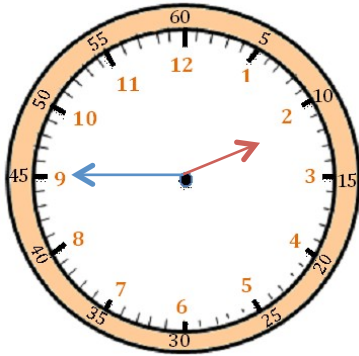
Mesures

Fiche 8

Les heures

1

J'écris les heures indiquées sur ces horloges. Nous sommes le matin.



Il est ___ h et ___ min.

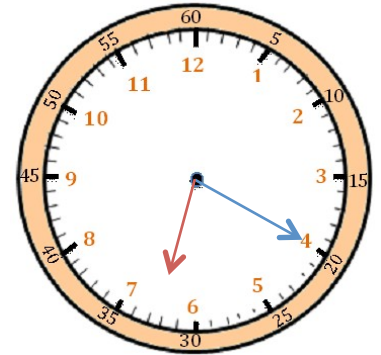
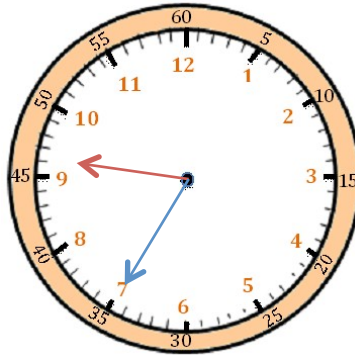
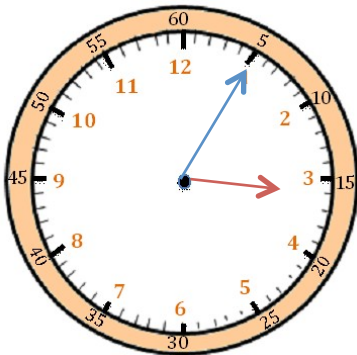
Il est ___ h et ___ min.

Il est ___ h et ___ min.



2

J'écris les heures indiquées sur ces horloges. Nous sommes l'après-midi.



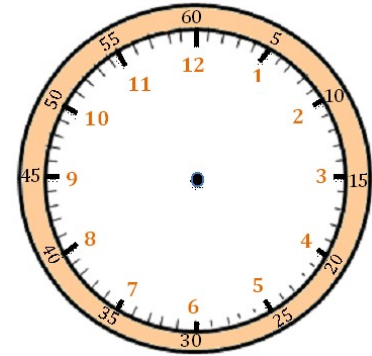
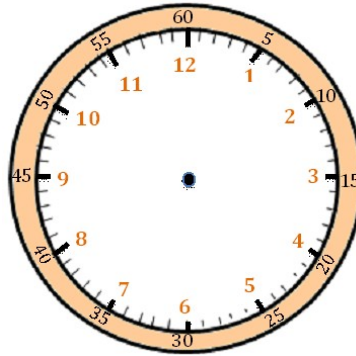
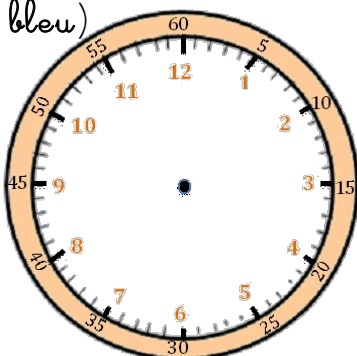
Il est ___ h et ___ min.

Il est ___ h et ___ min.

Il est ___ h et ___ min.

3

Je place les aiguilles selon les heures indiquées. (heures en rouge, minutes en bleu)



Il est 2 h 05 min.

Il est 8 h 20 min.

Il est 11 h 10 min.