

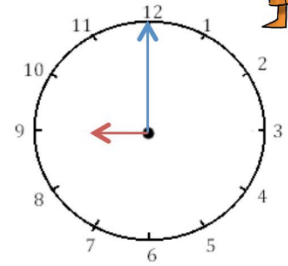
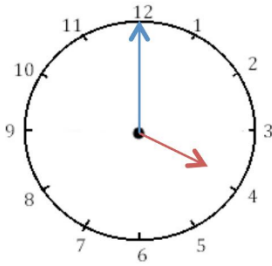


Mesures

Fiche 1

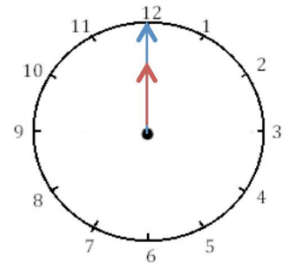
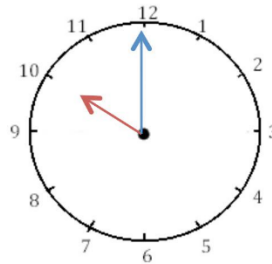
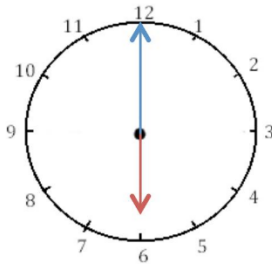
Les heures

1 J'écris les heures indiquées sur ces horloges. Nous sommes le matin.



Il est 4 h et 00 min. Il est 2 h et 00 min. Il est 9 h 00.

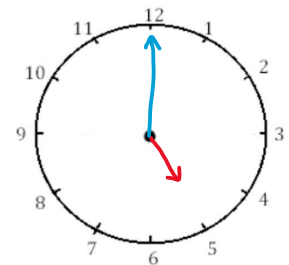
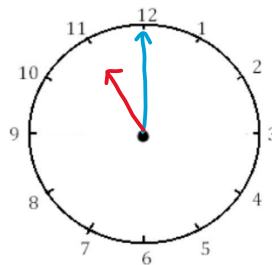
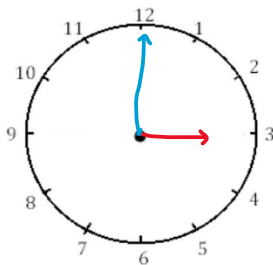
2 J'écris les heures indiquées sur ces horloges. Nous sommes le matin.



Il est 6 h et 00 min. Il est 10 h et 00 min. Il est 12 h 00 ou 0 h 00
ou midi
ou minuit



3 Je place les aiguilles selon les heures indiquées. (heures en rouge, minutes en bleu)



Il est 3 h 00 min. Il est 11 h 00 min. Il est 5 h 00 min.