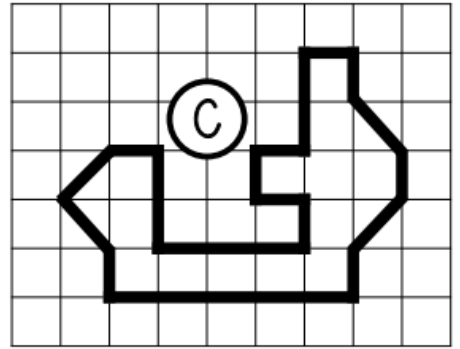
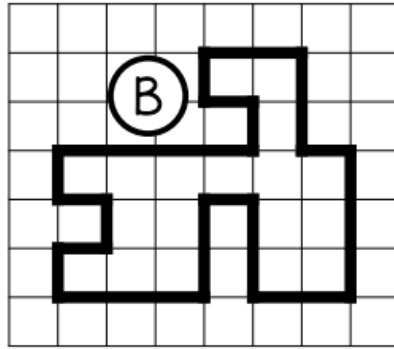
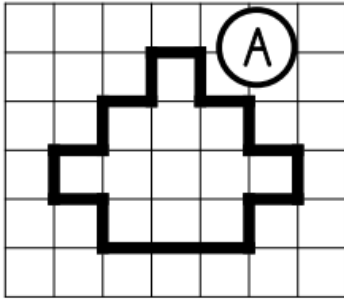


Exercices maths séquence 6 - Fiche 1

Exprime l'aire de ces figures :

□ *unité*



A = 12 unités d'aire

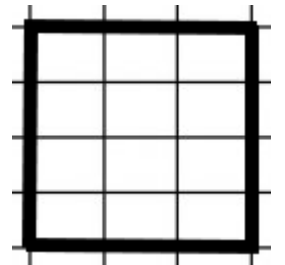
B = 18 unités d'aire

C = 15 unités d'aire

Sur ton cahier, dessine 3 figures **différentes** qui ont une aire de 12 unités A.

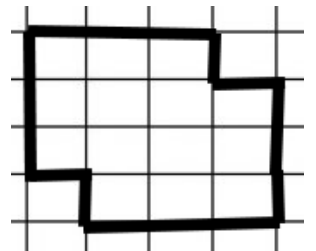
□ *unité A*

Exemple :



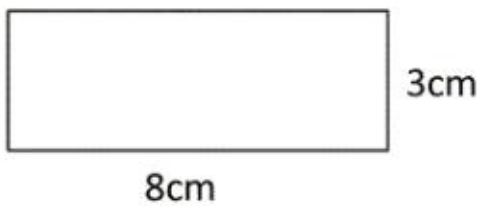
Sur ton cahier, dessine 3 figures **différentes** qui ont une aire de 28 unités B.

▽ *unité B*



Indique l'aire de ces figures en laissant apparaître tes calculs :

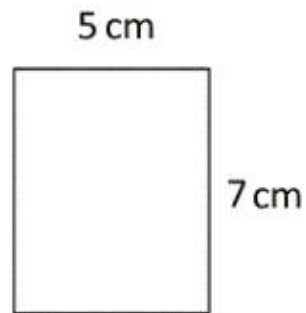
1)



Calculs : 3×8

Aire : 24 cm^2 .

2)



Calculs : 5×7

Aire : 35 cm^2 .