

Dans la phrase suivante, entoure en rouge le verbe conjugué et souligne en bleu son sujet. Souligne en rouge le COD/COI et en vert le CC (temps, lieu, manière, cause).

Tous les matins, le lapin sort de son terrier.

Donne l'infinitif du verbe et conjugue-le au présent, à l'imparfait et au futur, à toutes les personnes.

Infinitif : .....

Présent	Imparfait	Futur
Je .....	Je .....	Je .....
Tu .....	Tu .....	Tu .....
Il, elle, on .....	Il, elle, on .....	Il, elle, on .....
Nous .....	Nous .....	Nous .....
Vous .....	Vous .....	Vous .....
Ils, elles .....	Ils, elles .....	Ils, elles .....

Complète chaque groupe nominal par un déterminant et indique son genre (masculin/féminin) et son nombre (singulier/pluriel).

Leçon O 13

- ..... temps formidable → .....
- ..... savoureux repas chaud → .....
- ..... aventure extraordinaire → .....
- ..... hommes heureux → .....
- ..... acrobate phénoménal → .....

Souligne les groupes nominaux et entoure le nom noyau.

Leçon G 11

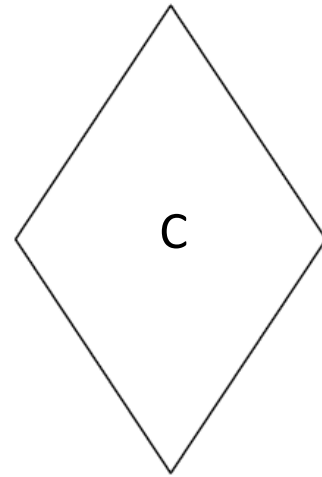


- Mes parents ont loué une grande villa.
- Un individu suspect pénètre dans la bijouterie du quartier.
- Le continent africain présente une grande variété de climats.
- Les coureurs approchent de la ligne d'arrivée.
- Sur la commode en acajou trônait une immense pendule.

Choisis le bon mot.

Leçon O 20

- (On – Ont) ira nager demain (a – à) la piscine.
- Ma sœur (et – est) malade.
- Elle écoute (son – sont) frère chanter.
- (Ce – Se) fauteuil est usé.

À l'aide de la leçon GE 07, coche les bonnes cases dans le tableau.



Quadrilatères	Côtés opposés parallèles	Côtés opposés égaux	4 côtés égaux	4 angles droits	Diagonales égales	Diagonales perpendiculaires	Diagonales se coupant en leur milieu
Carré (A)							
Rectangle (B)							
Losange (C)							

Calcule la somme payée par ce client.

Qty	Produit	Prix initial	Prix Total
1	gel douche vanille	2,68	2,68
1	paquet de mouchoirs	1,09	1,09
2	filet de mandarines	3,67	7,34
1	sachet de croquettes	5,78	5,78
<b>TOTAL EUR</b>		[                    ]	
Payé en espèces	20 EUR		
Rendu en espèces	3,11 EUR		

Dans le manuel de maths « outils pour les maths », faites l'exercice 11 p 43.